


БИЉКЕ

Грађа и животни циклус биљке

Име и презиме: _____

1. Главни делови биљке су:

1. _____
2. _____
3. _____
4. _____
5. _____
6. _____



2. Напиши назив који биљци служи за:

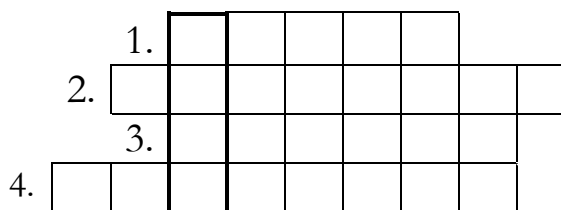
- a) стварање хране: _____
- б) ницање нове исте такве биљке: _____
- в) узимање воде : _____

3. Животни циклус биљке - поређај по редоследу

- Појављују се цветови који се расцветавају
- Цвет се суши. Из цвета се формира плод са семењем.
- Корен расте из семена .
- Семење доспева на земљу и циклус поново може да почне.
- Појављују се први листови.

4. Реши укрштеницу

1. Плод биљке који педимо у чај.
2. Весник пролећа.
3. Лиснато поврће које воли Попај.
4. Кажу да са четири листа доноси срећу.



Ако тачно решиш укрштеницу открићеш шта то имате и књига и биљка и ти.
То је _____ .

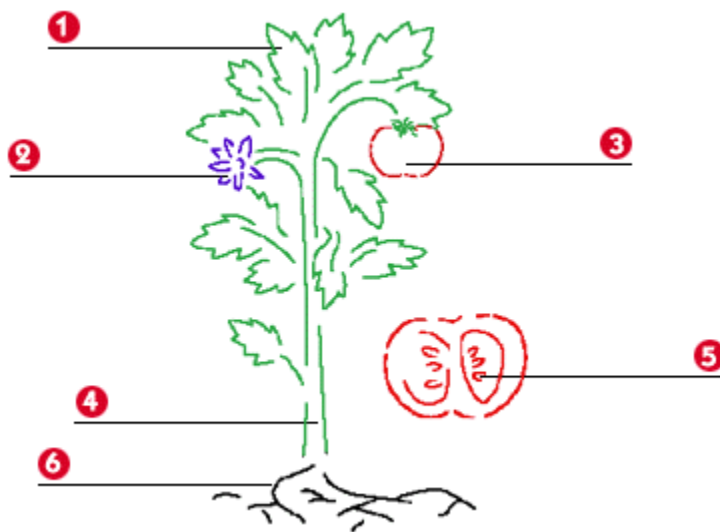
БИЉКЕ

Грађа и животни циклус биљке

Решења

1. Главни делови биљке су:

1. Лист
2. Цвет
3. Плод
4. Стабло
5. Семе
6. Корен



2. Напиши назив који биљци служи за:

- а) стварање хране : ЛИСТ
- б) ницање нове исте такве биљке: семе
- в) узимање воде: корен

3. Животни циклус биљке - поређај по редоследу

3. Појављују се цветови који се расцветавају
4. Цвет се суши. Из цвета се формира плод са семењем.
1. Корен расте из семена .
5. Семење доспева на земљу и циклус поново може да почне.
2. Појављују се први листови.

4. Реши укрштеницу

1. Плод биљке који цедимо у чај.
2. Весник пролећа.
3. Лиснато поврће које воли Попај.
4. Кажу да са четири листа доноси срећу.

Ако тачно решиш укрштеницу открићеш шта то имате и књига и биљка и ти.

То је ЛИСТ.

1.	Л	И	М	У	Н			
2.	В	И	С	И	Љ	А	Љ	А
3.	С	П	А	Н	А	Ћ		
4.	Д	Е	Т	Е	Л	И	Н	А