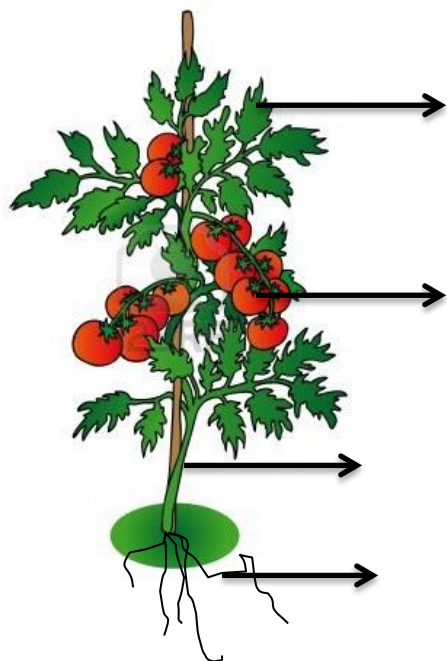



Име и презиме ученика: _____

1. Природа се дели на: _____ и _____.
2. У живу природу убрајамо: _____, _____ и _____.
3. Неживу природу чине: _____, _____, _____ и _____.
4. Делови биљке:



5. Делови тела:



Женка је _____.

Мужјак је _____.

Младунче је _____.

6. Повежи стрелицом тачне одговоре:

УШЋЕ	-удубљење испуњено водом
ИЗВОР	-мања река која се улива у већу реку
ПРИТОКА	-пут реке од извора до ушћа
РЕЧНИ ТОК	-место где река извире
РЕЧНО КОРИТО	-место где се мања река улива у већу реку, језеро, море

7. Годишња доба су: _____, _____, _____ и _____.

8. Термометар је _____
_____.



9. Главне стране света су: _____, _____, _____ и _____.

10. Сунце излази на _____, а залази на _____.

11. Наброј годишња доба: _____.

12. Саобраћај подразумева _____



13. Врсте саобраћаја су:



14. Моју породицу чине: _____

Ми живимо у граду _____ . Ученик сам _____ разреда

ОШ _____ .

Културне установе у мом граду су: _____



15. Посматрај дати календар, а затим попуни одговоре:

СЕПТЕМБАР 2013.						
П	У	С	Ч	П	С	Н
						1
2	3	4	5	6	7	8
9	10	11	12	13	14	15
16	17	18	19	20	21	22
23	24	25	26	27	28	29
30						

-Месец СЕПТЕМБАР има _____ дана.

-Школска година је почела 2.9.2013. у _____

-Марко Петровић је прославио свој 9. рођендан у _____ , 7.9.2013.


-Последње суботе у месецу _____ (напиши датум) организоваћемо радну акцију.

16. Наведи материјале од којих је направљен кишобран:



17. Упиши тачно време према датим часовницима:

после подне



пре подне

